

# 社會 111年國中教育會考 解析卷

年 班 號  
姓名

## 一、單題：(1~43題)

( C ) 1. 某宗教的全球年度大型集會活動在2017年約有235萬人參與。表(一)為該年參與者的來源國及其人數，此一宗教活動最可能為下列何者？

表(一)

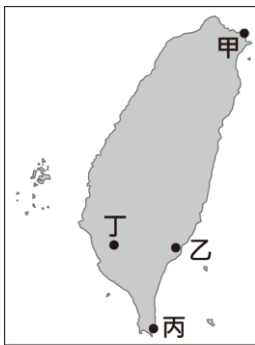
國家	人數	國家	人數
沙烏地阿拉伯	600,108	伊朗	86,500
印尼	221,000	土耳其	79,000
巴基斯坦	179,210	奈及利亞	79,000
印度	170,000	阿爾及利亞	36,000
孟加拉	127,198	摩洛哥	31,000
埃及	108,000	其他	635,106

- (A)佛教浴佛節 (B)印度教大壺節  
(C)伊斯蘭教朝覲 (D)天主教聖誕彌撒

科目【地理】第四冊第一篇第5章 西亞與北非的自然環境與文化

試題解析：題幹某宗教的集會活動參與者來自沙烏地阿拉伯、印尼、巴基斯坦、印度、孟加拉等，這些國家大部分都位於西亞、南亞，以及北非及非洲其他國家，這些國家多為伊斯蘭教的信仰國。全世界伊斯蘭教徒最多的國家是印尼2.2億人，第二名為印度有1.4億人。

( B ) 2. 臺灣一處具有特殊泥岩惡地景觀的地點，於2020年7月由地方政府審議通過為地質公園。該地位處板塊交界附近及海岸山脈最南端，泥岩夾雜外來岩塊的地層，為該地質公園主要特色。上述地質公園最可能位於圖(一)中何處？



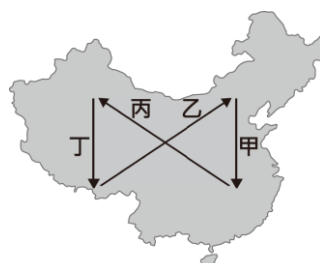
圖(一)

- (A)甲 (B)乙 (C)丙 (D)丁

科目【地理】第一冊第一篇第3章 地形

試題解析：題幹中指出泥岩惡地的位置在板塊交界處附近，歐亞跟菲律賓海板塊交界處位於在花東縱谷，所以此地位在花東縱谷，且在海岸山脈最南端的臺東附近，故選圖中的乙。

( C ) 3. 中國的氣候受地形、緯度、距海遠近等因素影響，而有空間上的差異。圖(二)中甲、乙、丙、丁哪一路線夏季氣候的空間變化趨勢，具有明顯的「由溼熱，變乾熱」的特性？



圖(二)

- (A)甲 (B)乙 (C)丙 (D)丁

科目【地理】第三冊第一篇第1章 中國的自然環境

試題解析：題目的問題重點是中國夏季季風的空間變化趨勢。中國的夏季季風是由熱帶西南風轉向溫帶的東南風，翰林版教科書二上15頁指出中國年降水量空間分布圖是由中國東南多雨溼熱漸漸往西北少雨

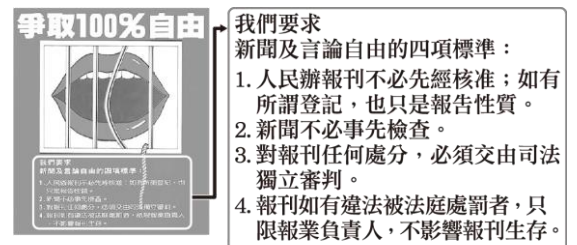
乾熱，故答案選丙路線。

- ( A ) 4. 根據經濟部水利署的統計，截至2019年底，臺灣40座主要水庫中，淤積率超過30%的共有15座，例如霧社水庫淤積率達74.8%、烏山頭水庫達49.2%，顯示臺灣水庫淤積程度嚴重，影響水庫蓄水功能。下列何項策略最能有效改善上述現象？  
(A)強化集水區崩塌裸露地的植被復育  
(B)擴大在河川下游種植防風林的面積  
(C)減少都市不透水鋪面，增加雨水入滲  
(D)增加地面水源供應，以取代地下水源

科目【地理】第一冊第一篇第6章 水文

試題解析：題幹指出臺灣主要水庫泥沙淤積超過30%的有15座，臺灣水庫淤積嚴重主要是水庫上游未做好水土保持。部分水庫的集水區崩塌地泥沙淤積過多，造成下游的水庫泥沙淤積，所以最好的改善方式就是做好水土保持。四個選項當中只有(A)強化集水區崩塌裸露地植被復育，這個答案最為合適。(B)主要是在防止河川泥沙所形成的風沙；(C)最主要是解決都市水患的問題；(D)主要是解決超抽地下水的問題。

- ( D ) 5. 圖(三)為1980年代臺灣某雜誌的封底，藉此表達該雜誌社的政治訴求。圖中內容所呈現的訴求，最可能與下列何者有關？



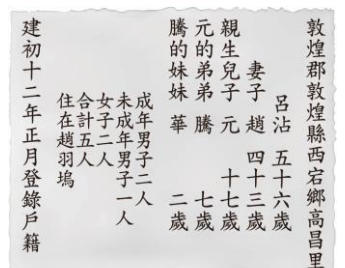
圖(三)

- (A)中央民意代表改選以及總統直選  
(B)政府應該妥善處理「二二八事件」  
(C)政府推行國語運動使得母語式微  
(D)消弭戒嚴體制對人民權利的限制

科目【歷史】第二冊第二篇第4章 戰後臺灣的政治

試題解析：民國38年的戒嚴令，限制人民言論、出版、集會與結社的自由，直到民國76年(1987年)蔣經國總統解除戒嚴開放黨禁、報禁。符合題目1980年代的雜誌訴求，故選(D)。

- ( B ) 6. 圖(四)為中國歷史上某種官方文件的內容，根據圖中內容判斷，當時政府製作此官方文件的主要目的最可能為下列何者？



圖(四)

- (A)配合科舉選拔人才，促進社會的流動  
(B)掌握人力作為徵集賦

建初十二年：西元416年。

稅和勞役的依據

(C)推行封建制度並保障貴族世襲的權力

(D)根據儒家思想，實施以仁為政的措施

科目【歷史】第三冊第三篇第1章 商周至隋唐時期的國家與社會

試題解析：秦代以後為了提高徵收賦稅和分派勞役，將人民編列戶籍，加強對人民的控制，故選(B)。

( C ) 7. 「柯因奈語」(Koine)，又稱「通用希臘語」，是大約發源於西元前四世紀的國際性語言。此一語言因某帝國在政治上統一了愛琴海地區各希臘城邦，融合了該地區多種方言發展而成；其後又伴隨帝國對外武力征服，向埃及、西亞等地區擴散傳播，對於往後數百年間科學、文學和宗教的發展影響深遠。上述的「某帝國」，最可能為下列何者？

(A)波斯帝國

(B)蒙兀兒帝國


(C)亞歷山大帝國

(D)阿茲提克帝國

科目【歷史】第五冊第二篇第2章 古希臘羅馬文化的開展

試題解析：西元前4世紀，希臘馬其頓城邦的亞歷山大統一希臘各城邦並展開東征，融合了埃及、西亞的文化，形成「希臘化文化」，故選(C)。

( C ) 8. 圖(五)是臺灣某考古遺址中，同一文化層出土的四種石器。圖中何者最適合作為判斷該文化層所屬時代的證據？



圖(五)

(A)甲 (B)乙 (C)丙 (D)丁

科目【歷史】第一冊第二篇第1章 史前臺灣與原住民文化

試題解析：甲：陶罐為新石器時代；乙：石器錘打為舊石器時代；丙：鐵器為金屬器時代；丁：漁獵為舊石器時代。同一文化層出土的器物要以最接近現代、最進步的年代來推斷，故選(C)。

( B ) 9. 某宮廟因違法擴建道路及廟宇建築，涉嫌竊占國土及濫墾山坡地，相關單位多次介入協調，要求廟方自行拆除，但該廟負責人認為廟地選址及擴建的決定皆為神明指示，堅決不願退讓，於是相關單位除了開罰六萬元外，並將負責人移送法辦。上述內容最可能是關於下列哪二者之間的衝突？

(A)環境保育與經濟發展

(B)法律規範與宗教信仰

(C)傳統習俗與倫理道德觀念

(D)信仰宗教自由與人民財產權

科目【公民】第二冊第三篇第2章 社會規範

試題解析：某宮廟涉嫌竊占國土及濫墾山坡地，相關單位將負責人移送法辦，屬於法律規範；而公廟負責人認為選址及擴建皆是神明指示，屬於宗教信仰，故選(B)。

( C ) 10. 國中生小安寄了一封陳情信給某位公職人員，信中敘述父親因沉迷賭博，導致家中債臺高築，害他的父母離異、家庭破碎，希望有人能幫幫他，讓父親不再沉溺賭海。該名公職人員收到信後立刻啟動偵

辦，循線破獲非法賭場，並依法對賭場業者與賭徒提起公訴。根據上述內容判斷，小安寄信的對象應是下列何者？

(A)法官 (B)律師 (C)檢察官 (D)警察局局長

科目【公民】第四冊第三篇第4章 刑事訴訟

試題解析：啟動偵辦、提出公訴屬於檢察官的職權，故選(C)。

( B ) 11. 創新科技公司為了讓其產品「LED省電燈泡」的銷售量增加，在各大報刊登廣告，內容如圖(六)所示。根據圖中內容判斷，該公司最可能是採取下列何種方式來達成目標？



圖(六)

(A)降低成本

(B)價格競爭

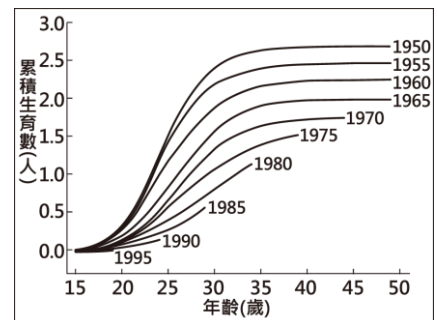
(C)建立品牌形象

(D)延長營業時間

科目【公民】第五冊第三篇第4章 市場競爭

試題解析：降價是一種價格競爭的手段，透過降低售價或提供折扣、優惠的方式，吸引消費者購買，進而提高銷售量，故選(B)。

( A ) 12. 圖(七)呈現某國不同年分出生的婦女，在育齡期間累積的生育數。為了改變圖中資料呈現的趨勢以維持人口結構穩定，下列何者最可能是未來該國政府採行的作法？



圖(七)

(A)提高幼兒教育補助金額

(B)加強宣導節制生育觀念

(C)提供弱勢學童輔導課程

(D)增設高齡安養照護機構

科目【公民】第一冊第三篇第4章 平權家庭

試題解析：由圖(七)可以看出人均累積生育數逐年下降，為少子化的現象，為改變此一趨勢，提高對兒童照護及教育的補助金額最為有效，故選(A)。

( B ) 13. 表(二)是

表(二)

四位同窗好友的相關資料。若僅根據

姓名	出生地	出生時父母的國籍	現況
王大軒	洛杉磯	中華民國	擔任立法委員
李大賢	臺中	美國	在澳洲工作
陳小涵	臺北	美國	擔任高雄市市議員
林小潔	西雅圖	中華民國	在日本留學

表中內容判斷，何者最可能不曾具有我國國籍？

(A)王大軒

(B)李大賢

(C)陳小涵

(D)林小潔

科目【公民】第一冊第三篇第1章 公民與公民德性

試題解析：我國國籍法以屬人主義為主。(A)父母為我國國民，且擔任立法委員，必定具有我國國籍；(C)父母非我國國民，但目前擔任高雄市市議員，必定具有我國國籍；(D)父母為我國國民，依我國國籍法，具有我國國籍，故選(B)。

( C ) 14. 歐盟基於公眾健康及動物福利等理由，於2012年起，禁止境內農民以傳統格子籠方式飼養蛋雞，並立法規定市售雞蛋必須明確標示其飼養方式，讓消

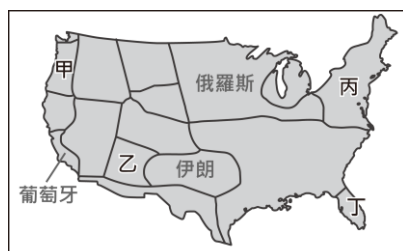
費者可以在平飼(即室內放養蛋雞)、放牧(除室內空間外，還提供蛋雞戶外活動空間)等友善生產的蛋品之間做出選擇。上述友善飼養方式逐漸在臺灣推行，但所產出的蛋品在臺灣市占率仍不高，其原因最可能為下列何者？

- (A)食安問題頻傳 (B)蛋品品質不佳  
(C)蛋品售價較高 (D)飲食習慣改變

科目【地理】第二冊第一篇第3章 農業

試題解析：蛋雞的友善飼養，是歐盟基於公眾健康及動物福利等理由提倡的一種飼養方式，近年逐漸在臺灣推行，但其產出的蛋品市占率不高，主要原因是這種飼養方式生產的蛋品在臺灣售價比較高。(A)在題目中沒有食安問題頻傳相關的敘述；(B)題目敘述友善生產的蛋品，由此判斷蛋品的品質應該不錯，故此選項敘述不符；(D)題目沒有飲食習慣改變相關的敘述。

- ( D )15. 美國具有多樣化的氣候類型，圖(八)是將美國各區域與世界上其他國家的氣候特徵相比，把具有類似氣候特徵的國家標示在該區域上。臺灣最可能標示在圖中甲、乙、丙、丁何處？



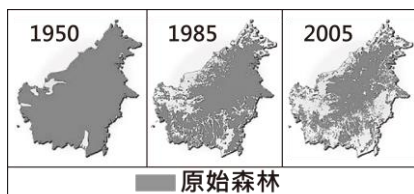
圖(八)

- (A)甲 (B)乙 (C)丙 (D)丁

科目【地理】第五冊第一篇第5章 北美洲

試題解析：臺灣的氣候特徵除北部外，大致呈現夏雨冬乾的氣候類型，且夏秋兩季多颱風，其氣候型態與丁(佛羅里達)的氣候特徵相似，故選(D)。

- ( C )16. 婆羅洲島分屬印尼、汶萊與馬來西亞三國，圖(九)為其原始森林不同時期面積



圖(九)

的變化。圖中原始森林的變化趨勢與下列該島何種變化趨勢最為相似？

- (A)油田開採的面積 (B)都市聚落的範圍  
(C)野生動物的棲地範圍 (D)熱帶作物的種植面積

科目【地理】第四冊第一篇第3章 東南亞

試題解析：題目指出婆羅洲為印尼、汶萊、馬來西亞原始森林不同時期的面積。從圖(九)判斷 1950 到 2005 年原始森林的面積愈來愈少，這因為大部分森林都被人為開發，因此可從原始森林的面積變化看出跟野生動物棲息的範圍也愈來愈少相關，所以此題答案為(C)。(A)油田開採的面積應是愈來愈多；(B)都市聚落的面積範圍也應是愈來愈多；(D)熱帶作物種植面積也是愈來愈多；只有(C)這個答案的面積變化是愈來愈少。

- ( B )17. 臺灣某茶商為了提高自有茶園的茶葉產量，以供應國內日益成長的罐裝茶及手搖茶市場需求，且能與由越南、斯里蘭卡等產區進口的低價茶葉競爭，因

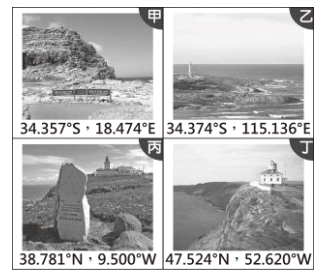
而導入滴灌技術，精準計算用水及肥料使用量。此外，也利用農業機具栽種茶苗，並以無人機巡視，噴藥及採收時間則以網路平臺管理。上述各項措施，最主要可達到下列何種成效？

- (A)利於傳統茶園轉型成休閒農場  
(B)降低勞力成本占總成本的比例  
(C)提升茶葉品質以提高單位價格  
(D)增加出口至東協國家的茶葉量

科目【地理】第二冊第一篇第3章 農業

試題解析：題目敘述臺灣茶商為了提高自有茶園茶葉的產量，還有精準計算用水、肥料的使用量、利用農業機具栽種茶苗，並以無人機巡視。從以上敘述可知，茶葉商為了要減少勞力，才使用無人機、農業機具，故此題為(B)。(A)題目的敘述並沒有跟休閒農場有相關的用詞；(C)題目敘述要跟越南、斯里蘭卡進口低價茶葉競爭，因此選項敘述提高單位價格與題目不符；(D)題目並沒有敘述茶葉要出口到東協國家，只有提出提高自有茶園茶葉產量。

- ( C )18. 圖(十)為全球四個著名岬角的位置資訊，其中何者位於歐亞大陸西部海岸？



圖(十)

- (A)甲 (B)乙  
(C)丙 (D)丁

科目【地理】第一冊第一篇第1章 認識位置與地圖、第五冊第一篇第3章 歐洲與俄羅斯的自然環境

試題解析：由圖(十)經緯度來判斷，甲為非洲西南部好望角，乙為澳洲伯斯附近的西海岸，丙為葡萄牙西海岸的照片，丁為加拿大東岸的照片。題目問甲~丁選項何者為歐亞大陸西部海岸，只有葡萄牙是歐亞大陸西部的海岸，故選(C)。

- ( C )19. 「歷史事實」與「歷史解釋」的區別，在於歷史事實是客觀呈現過去發生的事件；而歷史解釋則是後人運用歷史資料，對相關歷史事件進行的詮釋與評價。下列敘述中，何者最適合歸類為「歷史事實」？

一些唐朝名人追求突厥式生活的熱情，竟然使他們能忍受不舒適的帳篷生活。(甲)  
承乾太子在生活起居各方面，稱得上是一位傑出的模仿者，他寧願說突厥語而不說漢語，並且在皇宮的空地上搭建突厥帳篷，穿著突厥可汗的服飾，拿著佩刀切割煮熟的羊肉。但是具有這種奇特愛好的人，在當時畢竟是很有限的。(丁)

- (A)甲 (B)乙  
(C)丙 (D)丁

突厥：歐亞大陸上的一支游牧民族；  
可汗：部分游牧民族統治者的稱號。

科目【歷史】第一冊第二篇導言 歷史的基礎觀念

試題解析：甲：能忍受不舒適的帳篷生活。——歷史解釋。乙：承乾太子稱得上是一位傑出的模仿者。——歷史評價。丙：在皇宮空地搭建突厥帳篷，穿著突厥可汗的服飾。——承乾太子確實如此做過，此為歷史事實。丁：這種奇特愛好的人，當時是有限的。——歷史評價。故選(C)。

(A) 20. 圖(十一)為臺灣某年報紙刊登的二則社會新聞。根據內容判斷，新聞報導的事情最早可能發生於下列何時？

某位三十四歲男性在艋舺玩樂而散盡積蓄，想在自來水源地尋短，卻因為害怕而放棄。最後因為在龍匣口街白吃白喝，遭店家報警逮捕。

某位二十五歲男性竊取現金一百二十圓，帶十九歲的女友私奔，其兄長與警察在臺南火車站發現他的行蹤。他當時正想要跳上開往打狗的列車逃遁。

圖(十一)

- (A)日本統治時期
- (B)清帝國統治時期
- (C)中華民國政府遷臺初期
- (D)中華民國政府推動十大建設期間

科目【歷史】第二冊第二篇第1章 日治時期的政治

試題解析：由圖(十一)的內容中，看到艋舺、打狗的舊地名和警察處理，故為日本統治時期，故選(A)。

(B) 21. 日本料理「天婦羅」，是將食材裹上澱粉漿之後下鍋油炸，這種料理源自於天主教徒在齋戒期間，將食材油炸後食用。在沒有冷凍技術的時代，因為油炸食物容易保存，所以水手於遠洋航行時也會準備油炸魚類作為糧食。葡萄牙的天主教徒最初到日本傳教與貿易時，同時傳入這種料理。「天婦羅」傳入日本的時代背景，最可能是下列何者？

- (A)外國艦隊脅迫幕府開港，促使日本推動明治維新
- (B)西方各國展開海外探險，建立到達東方的新航線
- (C)日本受大唐文化的薰染，效法唐朝推動制度改革
- (D)民主陣營為防堵共產勢力，派遣艦隊駐防太平洋

科目【歷史】第五冊第二篇第5章 多元世界的互動

試題解析：15世紀歐洲人展開大航海時代，首先葡萄牙人狄亞士發現非洲南端好望角，達伽馬繞過好望角抵達印度，開闢前往東方的新航路。接著葡萄牙占據中國澳門，並到達日本，故選(B)。

(D) 22. 一列火車在德國官方秘密安排下，從蘇黎世出發前往俄國，車上乘客包括列寧及其布爾什維克黨同志，這些人曾因為反對俄國政府而流亡海外。列寧等人沿途經過德國、瑞典、芬蘭，最後抵達俄國的首都彼得格勒(今聖彼得堡)。半年後，他們領導革命，推翻臨時政府，組織新的政權，對俄國產生重大影響。當時德國官方安排這班列車的目的，最可能為下列何者？

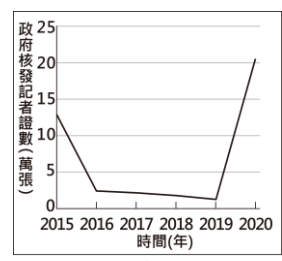
- (A)與俄國結盟對抗拿破崙
- (B)欲緩和冷戰東西對立局勢
- (C)遵守《德蘇互不侵犯條約》
- (D)為使俄國退出第一次世界大戰

科目【歷史】第六冊第二篇第3章 第一次世界大戰與戰間期

試題解析：第一次世界大戰(1914-1918)，以德奧為中心的同盟國陣營，分東、西兩戰場，西線形成與協約國對峙的「壕溝戰」，東線俄國在1917年2月發生革命，卻未退出大戰，直到同年10月列寧革命成功，才退出戰場，故選(D)。

(D) 23. 甲國政府自2019年起，要求記者須通過關於國家領袖思想的考試後，才能取得記者證，藉以強化他們對國家領袖的效忠。圖(十二)是近年該國政府核

發記者證數量的變化，而表(三)則是無國界記者組織提出的全球新聞自由指數報告中，該國近年的排名狀況，排名越前面代表新聞自由程度越高。根據相關資訊判斷，關於甲國政府的此項作法，下列敘述何者最合理？



圖(十二)

時間(年)	新聞自由指數排名
2015	全球倒數第5
2016	全球倒數第5
2017	全球倒數第5
2018	全球倒數第5
2019	全球倒數第4
2020	全球倒數第4

- (A)政府藉由立法規範，以保障記者的新聞自由
- (B)政府採取獎勵政策，以促使新聞產業蓬勃發展
- (C)政府削減新聞記者人數，以便管控媒體報導內容
- (D)政府透過管控記者思想，以影響閱聽人接收的新聞

科目【公民】第二冊第三篇第4章 民主社會中的公共意見

試題解析：取得記者證須通過效忠國家領袖思想的考試，目的在管控記者思想，從而影響閱聽人接收的新聞內容。考試後發證人數雖然大幅增加，但新聞自由程度並未因此提升，故選(D)。

(B) 24. 表(四)呈現阿森在近三屆我國總統選舉資格的變化情形。根據表中內容判斷，阿森在第14屆至第15屆之間，最可能發生了下列哪一件事？

屆次	總統選舉參選資格	總統選舉投票資格
13	不具備	具備
14	不具備	具備
15	不具備	不具備

- (A)被政黨開除黨籍
- (B)遭法院監護宣告
- (C)遷移戶籍至其他縣市
- (D)遭法院判處褫奪公權

科目【公民】第三冊第四篇第6章 政治參與

試題解析：(A)開除黨籍與參政權無關；(C)境內遷移不影響總統選舉的投票資格；(D)褫奪公權僅剝奪被選舉的資格，不影響投票資格，故選(B)。

(C) 25. 我國國會可對中央政府部分官員的人事提案行使同意權，並在投票表決前，藉由提問來審查被提名人是否適任。根據我國公職人員的法定職權判斷，下列哪一個問題的提問對象最可能是大法官被提名人？

- (A)如何提升違法官員彈劾案件的辦案效率
- (B)如何落實嚴謹審核中央政府年度總決算
- (C)我國仍維持死刑刑罰是否違反基本人權
- (D)公務人員的選才制度是否有改善的空間

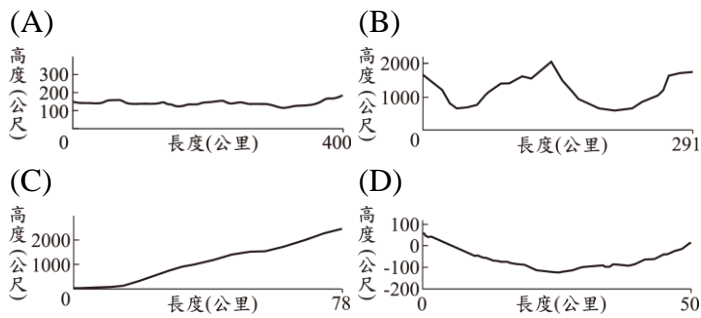
科目【公民】第三冊第四篇第4章 中央政府

試題解析：(A)彈劾為監察院的職權；(B)決算為審計部的職權；(C)審理法律是否牴觸憲法為大法官的職權；(D)公務人員的選才為考試院的職權，故選(C)。

(B) 26. 圖(十三)為某條鐵路的路線圖，該鐵路全線的海拔高度變化最可能為下列何者？

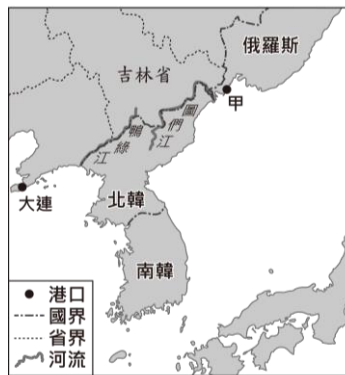


圖(十三)



科目【地理】第五冊第一篇第3章 歐洲與俄羅斯的自然環境  
 試題解析：圖(十三)中某條鐵路的路線圖，由圖中判斷鐵路位於奧地利左邊的瑞士，瑞士境內多位在阿爾卑斯山山區，阿爾卑斯山屬於山地的地形，故最符合的答案是(B)。(A)平均海拔高度約150公尺，跟瑞士平均高度不符；(C)圖左側的海拔高度幾乎接近0，與瑞士平均高度不符；(D)此圖海拔高度低於海平面，跟瑞士平均高度不符。

( D )27. 2014年中國吉林省與俄羅斯合作擴建圖(十四)中的甲港口，目前出口貨物可不經由大連港，透過甲港口可大幅縮短與鄰近國家部分港口的航運時間。擴建甲港口除上述目的外，最可能還含下列何優勢？

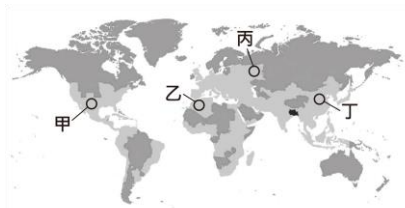


圖(十四)

- (A)作為俄羅斯船隻通往大西洋的出海口
- (B)加速俄羅斯將開發重心轉向歐俄平原
- (C)作為中、俄兩國鴨綠江流域貨物出入的港口
- (D)提供中國船隻藉由此港口通往北極海的捷徑

科目【地理】第三冊第二篇第2章 大洋洲與兩極地區  
 試題解析：題目敘述與圖(十四)的甲港口就是夫拉迪沃斯托克（海參崴），中國跟俄羅斯合作擴建此港的目的，就是為了讓中國的船隻能藉著此港口通往北方的北極海，故此題為(D)。(A)提到的大西洋跟夫拉迪沃斯托克附近的位置不符；(B)提到將開發中心轉向歐俄平原，夫拉迪沃斯托克位於西伯利亞最東邊，距離歐俄平原遙遠，故與題目不符；(C)鴨綠江跟海參崴之間有朝鮮半島，此選項應該改為們們江。

( D )28. 2014年世界上只有5%的人口居住在圖(十五)中的深灰色區域；而相同數量的人口則居住在圖中黑色區域。小齊想要在地圖上的淺灰色區域，以圓圈標示另一個人口數量最相近的範圍，則他標示在下列何地最為適宜？



圖(十五)

- (A)甲 (B)乙 (C)丙 (D)丁

科目【地理】第三冊第一篇第2章 中國的人口  
 試題解析：題目敘述全世界只有5%的人口居住在深灰色的區域，全世界有70億人，所以5%是3.5億人，而題目中敘述有相同數量的人口居住在圖中黑色區

域，圖中黑色區域是位於南亞的東邊孟加拉和印度，當地人口接近3.5億。在甲~丁區域間挑選有3.5億人口的區域，故只能選擇位於中國華北的丁處。

( D )29. 世界氣象組織(WMO)定義熱浪標準為連續5日的每日最高氣溫，皆高於歷年最暖月的最高氣溫平均值 $5^{\circ}\text{C}$ 以上。表(五)為臺北測站1981至2010年氣溫相關資料，根據上述定義，臺北在下列何種情形即達到此一熱浪標準？

表(五)

月分	1	2	3	4	5	6	7	8	9	10	11	12	年平均
氣溫( $^{\circ}\text{C}$ )	16.1	16.5	18.5	21.9	25.2	27.7	29.6	29.2	27.4	24.5	21.5	17.9	23.0
最高氣溫( $^{\circ}\text{C}$ )	19.1	19.6	22.1	25.7	29.2	32.0	34.3	33.8	31.1	27.5	24.2	20.7	26.6
最低氣溫( $^{\circ}\text{C}$ )	13.9	14.2	15.8	19.0	22.3	24.6	26.3	26.1	24.8	22.3	19.3	15.6	20.4

- (A)連續5天出現 $31.6^{\circ}\text{C}$ 以上高溫
- (B)連續5天出現 $34.3^{\circ}\text{C}$ 以上高溫
- (C)連續5天出現 $34.6^{\circ}\text{C}$ 以上高溫
- (D)連續5天出現 $39.3^{\circ}\text{C}$ 以上高溫

科目【地理】第一冊第一篇第5章 天氣與氣候

試題解析：題目敘述熱浪標準為連續五日每日最高氣溫，都高於歷年最暖月最高氣溫平均值 $5^{\circ}\text{C}$ 以上。表(五)中7月最高溫 $34.3^{\circ}\text{C}$ ，題目提及需比最高溫多 $5^{\circ}\text{C}$ 才能定義為熱浪，故 $34.3^{\circ}\text{C}$ 加 $5^{\circ}\text{C}$ 等於 $39.3^{\circ}\text{C}$ ，因此最佳的答案為(D)。

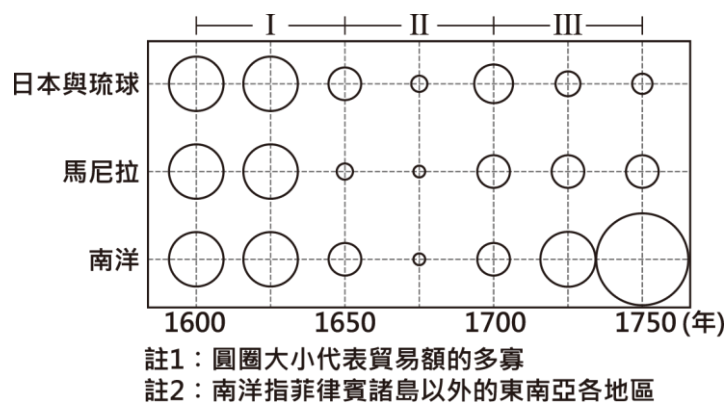
( B )30. 以下是中國天津某年慶祝元旦的相關報導：「政府要求各機關及各民眾團體，在元旦上午參加慶祝中華民國成立的紀念大會。當晚民眾提燈遍遊街市，高呼『勿忘國恥』、『抵制日貨』、『打倒貪官汙吏』、『打倒燒香化紙、磕頭拜年的惡習』等口號。各街市商號張貼標語、懸燈結綵，國民黨黨旗和國旗飄揚天際，蔚為盛況。」上述內容最可能是描繪下列何時的景象？

- (A)1861-1895年自強運動期間
- (B)1928-1937年十年建設期間
- (C)1958-1961年農工大躍進期間
- (D)1966-1976年文化大革命期間

科目【歷史】第四冊第二篇第1章 中華民國的建立、第3章 現代國家的挑戰

試題解析：題目內容是慶祝中華民國元旦，且有「抵制日貨」的口號，應為中華民國統治時期，加上十年建設期間，日本不斷侵略中國製造918、128事變，在東北成立滿洲國等，故選(B)。(A)在清朝，(C)(D)在中共統治時期。

( D )31. 圖(十六)是某時期中國海外貿易的進出口總額統計圖。觀察圖中各區域與中國的貿易概況，分析造成圖中第「II」階段變化的主要原因，最可能與下列何者有關？



- (A) 朝廷驅逐在華的耶穌會傳教士  
(B) 玉米、馬鈴薯等美洲作物傳入  
(C) 義和團事變對社會經濟的衝擊  
(D) 鄭氏勢力擁兵東南與清廷對抗

科目【歷史】第一冊第二篇第2章 大航海時代各方勢力的競逐

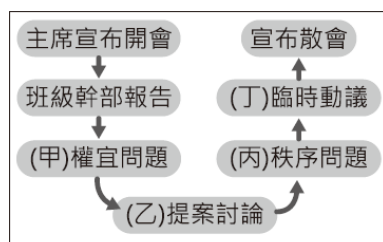
試題解析：1662年鄭成功趕走在臺灣的荷蘭人，以臺灣作為反清復明的基地，並致力和日本、東南亞貿易。而清廷則以海禁打擊鄭氏勢力，圖(十六)第二階段海外貿易因而縮小，等到1683年施琅攻下臺灣，才解除海禁，故選(D)。

- (A) 32. 謝先生是王小姐的前夫，但謝先生屢次侵擾王小姐的住處，甚至還到她上班的地方騷擾，最後謝先生因違反保護令的相關規定，被判處拘役四十天。根據上述內容判斷，下列敘述何者正確？  
(A) 謝先生必須為自己的違法行為負起刑事責任  
(B) 王小姐因警察局所核發的保護令而獲得保障  
(C) 謝先生若不服判決可向地方法院提出民事訴訟  
(D) 王小姐可依《性別平等教育法》向謝先生求償

科目【公民】第四冊第三篇第3章 刑法與刑罰

試題解析：從被判處拘役可知為刑事責任。(B)保護令由法院核發；(C)此為刑事案件，若對判決不服應提起刑事訴訟；(D)性別平等教育法未有保護令的規範，因此不適用性別平等教育法，故選(A)。

- (A) 33. 開班會時，有些同學在玩牌、有些同學在吃東西，阿偉認為吵雜聲使他聽不清楚其他人的發言內容，影響到他參與會議的權利。圖(十七)是當日班會的部分過程，阿偉應是在圖中哪一階段要求主席處理上述問題？



圖(十七)

圖(十七)是當日班會的部分過程，阿偉應是在圖中哪一階段要求主席處理上述問題？

- (A) 甲 (B) 乙 (C) 丙 (D) 丁

科目【公民】第一冊第三篇第2章 權利與校園生活

試題解析：權宜問題是針對議場內偶發的緊急事件提出，其目的在於排除阻礙會議進行的事故；秩序問題是針對議題進行中程序的錯誤提出，目的在於改正會議本身的錯誤。吵雜聲影響阿偉參與會議的權利，並非影響會議程序，故選(A)。

- (D) 34. 某日阿蔚透過網路觀看立法院的議事實況轉播，根據我國現行法律規定，他最可能看見下列何者的轉播情況？

- (A) 審理總統、副總統彈劾案  
(B) 表決對行政院的糾正提案  
(C) 召開行政院會議規畫施政方針  
(D) 行政院部會首長進行施政報告

科目【公民】第三冊第四篇第4章 中央政府

試題解析：(A)總統、副總統彈劾案由大法官憲法法庭審理；(B)糾正為監察院的職權；(C)行政院會議由行政院召開，故選(D)。

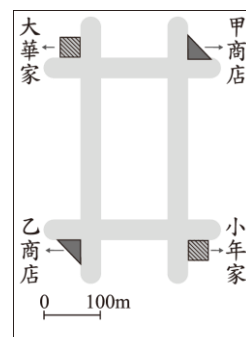
- (D) 35. 「紓解訟源」是近年司法改革的重點之一，其目的是希望讓民眾在提起訴訟前，能透過公正且具有與法院確定判決相同效力的途徑來解決糾紛，這種方式既可避免耗時的訴訟程序，也能減少司法資源的浪費。下列哪種處理方式最符合「紓解訟源」的作法？

- (A) 不服行政處分，向上級機關提起訴願  
(B) 偷竊財物遭逮，嫌犯希望失主別追究  
(C) 車禍無人受傷，雙方私下和解賠償損失  
(D) 遭友積欠債務，至調解委員會聲請調解

科目【公民】第四冊第三篇第2章 民事糾紛的解決

試題解析：題目所提及的公正且具有與法院確定判決相同效力的解決途徑為調解。(A)訴願為行政救濟，不適用調解；(B)偷竊為非告訴乃論，僅能以訴訟方式尋求救濟；(C)私下和解僅具有一般民事契約效力，故選(D)。

- (D) 36. 圖(十八)為大華與小年住家附近的地圖，甲、乙二商店均販賣大華與小年想購買的某項商品，且該商品在甲商店的售價比乙商店高。若大華僅想就近買到商品，而小年卻只想以便宜的價格購買，則對此二人而言，到哪一間商店購物的機會成本較高？



圖(十八)

- (A) 皆為甲商店  
(B) 皆為乙商店  
(C) 大華：甲商店，小年：乙商店  
(D) 大華：乙商店，小年：甲商店

科目【公民】第五冊第三篇第1章 生活中的選擇

試題解析：大華只考慮就近，故到距離較遠的乙商店消費機會成本高；小年只考慮便宜，故到價格高的甲商店購買機會成本高，故選(D)。

- (C) 37. 中國近代某一文章提到：「政府假借預備立憲的美名卻實行中央集權，假借推行新政卻搜刮民間錢財，對外則割讓土地，並出賣採礦權與鐵路經營權。人民反對政策，可能會被處死；如果人民自己出錢出力興修鐵路，又會被官方沒收。政府應該要保護人民，結果人民反而受到政府的傷害，如此不顧人民生命、財產的政府，誰還能忍受呢！」上文的主要訴求最可能是下列何者？

- (A) 因對外戰爭受到挫敗，提倡學習西方的軍事及工業技術  
(B) 推動制度層面的改革，以解決自強運動改革不彰

的問題

- (C)對改革結果感到失望，體認到革命也是救國的途徑之一
- (D)主張全面改革思想文化，提倡西方科學精神與白話文學

科目【歷史】第三冊第三篇第5章 西力衝擊下的東亞世界；

【歷史】第四冊第二篇第1章 中華民國的建立

試題解析：「政府假借立憲」是在說清末的立憲運動，「假借推行新政」是指庚子後新政，「人民自己出錢出力興修鐵路，又會被官方沒收」是指清末政府推行鐵路國有政策，反遭人民興起「保路運動」反抗。所以給予革命黨可趁之機，「武昌起事」成功，推翻滿清。故選(C)。(A)自強運動；(B)戊戌變法；(D)新文化運動。

- ( C )38. 圖(十九)中的硬幣為位在南半球的某國於 2019 年所發行。自歐洲人十八世紀移入該地以來，已有約 130 種原住民語絕跡。該國希望藉由此硬幣的發行，提醒人民保存、維護和活化原住民語的重要性。上述硬幣最可能由下列何國發行？



硬幣此面列出「貨幣」的14種原住民語，硬幣下方特別設計一處留白，來代表該國其他已喪失的語言；硬幣的另一面為英國女王頭像，象徵該國殖民時期與英國的歷史淵源。

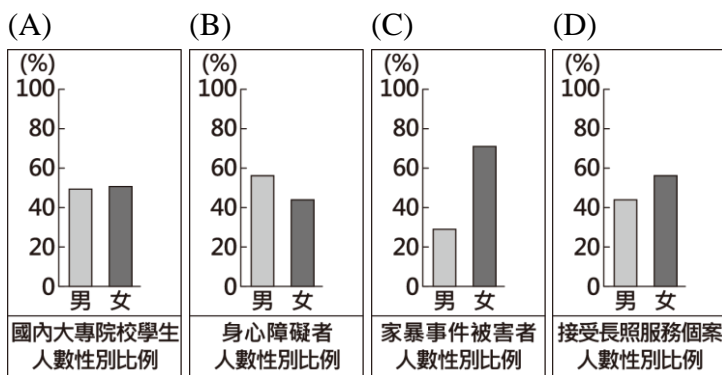
圖(十九)

- (A)印度 (B)秘魯 (C)澳洲 (D)菲律賓

科目【歷史】第五冊第二篇第5章 多元世界的互動

試題解析：圖(十九)內容可知該地曾為英國的殖民地，且原住民在近代覺醒，提倡要積極保存、維護原住民語言，故選(C)。因同為英國殖民地的印度，採種姓制度，未有原住民覺醒活動。

- ( C )39. 小強參加辯論比賽，辯論主題是「目前甲國社會尚未達到性別平等」，若他是站在正方的立場，須提出支持主題的論點，下列四張關於甲國不同面向的統計圖，何者最適合小強作為強化論點的證據？



科目【公民】第一冊第三篇第4章 平權家庭

試題解析：(A)就學率男女比率相近，已達男女平等；(B)身心障礙並非因先天性別因素決定，更可能是後天的意外、災難造成，不足以說明性別不平等現象；(C)女性常是家庭中相對弱勢者，男女之間有不平等的現象；(D)女性接受長照服務人數多於男性的現象，可能是源於女性先天壽命較長或後天戰爭因素影響，不足以說明性別不平等現象。因此答案為(C)。

- ( D )40. 圖(二十)為小成在研究 2017 年非洲貿易現況時所

發現的某些現象。非洲各國採取下列何項措施，最可能有助於改善非洲這些現象？

- 💡 肯亞是世界主要的花卉生產國，但奈及利亞的花卉有八成來自荷蘭；奈及利亞生產大量棕櫚油，但肯亞的棕櫚油主要進口自馬來西亞。
- 💡 以洲內貿易的比例而言，非洲僅有15%，亞洲是58%，歐洲高達67%。
- 💡 目前非洲大部分國家的貿易對象主要為歐盟國家、中國及美國。

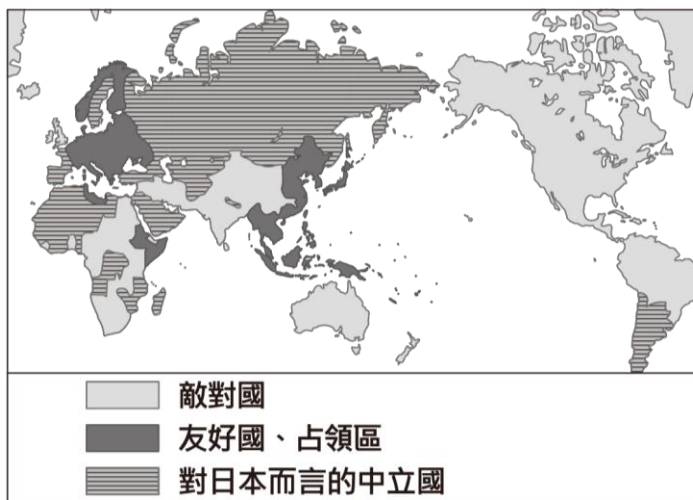
圖(二十)

- (A)限定與非洲其他國家的進口配額，保護本國產業
- (B)改善與其他洲的交通運輸，降低貨物的運輸成本
- (C)強化邊境的管制措施，防止鄰國非法貿易的進行
- (D)簽署非洲自由貿易協定，降低非洲國家間的關稅

科目【地理】第五冊第一篇第2章 漠南非洲的產業與經濟發展

試題解析：題目描述非洲貿易的現況，第一項目肯亞是主要花卉生產國，但西非的奈及利亞須從荷蘭輸入花卉。第二項目是洲內的貿易比對外貿易還要少。由這兩個項目判斷，非洲內的國家與國家之間貿易的關稅比較重，不像歐盟國家跟國家之間免關稅，因此可透過簽署非洲自由貿易協定，有助於改善現況與問題，故選(D)。

- ( B )41. 圖(二十一)是日本繪製的第二次世界大戰形勢圖，三種圖例代表與日本三種不同關係。從圖中標示的圖例，可得知這是 1941 年底太平洋戰爭爆發後的世界形勢，最主要的判斷依據應為下列何者？



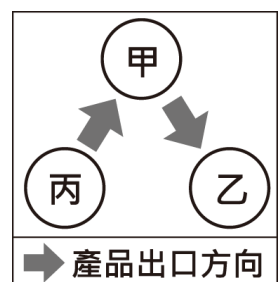
圖(二十一)

- (A)英國和德國使用不同圖例
- (B)英國和美國使用相同圖例
- (C)朝鮮和日本使用相同圖例
- (D)德國和日本使用相同圖例

科目【歷史】第六冊第二篇第4章 第二次世界大戰與戰後情勢

試題解析：1941 年底，日本偷襲美國在夏威夷的軍事基地珍珠港後，美對日宣戰，爆發太平洋戰爭。美國對日本而言是敵對國，故選(B)。

- ( D )42. 圖(二十二)呈現甲、乙、丙三國的貿易情況。若甲國受匯率變動的影響，使得某段時間的進、出口商品數量皆大幅增加，則根據圖中內容判斷，該段時間甲國貨幣的匯率變化，最可能為下列何者？



圖(二十二)

- (A)相對乙、丙兩國貨幣皆升值

- (B)相對乙、丙兩國貨幣皆貶值  
 (C)相對乙國貨幣升值，但相對丙國貨幣貶值  
 (D)相對乙國貨幣貶值，但相對丙國貨幣升值

科目【公民】第五冊第三篇第5章 貨幣的使用

試題解析：貨幣貶值有利於商品出口；貨幣升值有利於商品進口。甲國對乙國大量出口，代表甲國貨幣相對乙國貨幣貶值；甲國對丙國大量進口，代表甲國貨幣相對丙國貨幣升值，故選(D)。

- ( A )43. 圖(二十三)是某一時期的政治宣傳漫畫，圖中「大手」代表當時的國際組織，領導各國對抗侵略者。根據內容判斷，該國際組織最可能是下列何者？



圖(二十三)

- (A)聯合國 (B)國際聯盟  
 (C)華沙公約組織 (D)石油輸出國家組織

科目【歷史】第四冊第二篇第6章 當代東亞的局勢、第六冊第二篇第3章 第一次世界大戰與戰間期、第六冊第二篇第4章 第二次世界大戰與戰後情勢

試題解析：圖(二十三)，大韓民國在南方，北方是共黨侵略者，可看出是1950年的韓戰，北韓在蘇聯、中共的支援下，入侵南韓，最後由美國為首的聯合國部隊援助南韓，維持住現狀至今。故選(A)。(B)第一次世界大戰後維護世界和平的國際組織；(C)冷戰時期蘇聯聯合東歐共產國家建立的組織，和北大西洋公約組織對抗；(D)維持原油價格及產量水準的國際組織。

二、題組：(44~54題)

閱讀下列選文，回答第44至45題：

1855年，美商威廉士洋行的商船航行至臺灣府安平外海，並派人上岸詢問是否能在當地貿易。經過安排，船長和臺灣道裕鐸在打狗會面，裕鐸在會談中告知船長，外國商船如果直接在安平停泊，並不符合規定，臺灣道將受到朝廷處罰，但裕鐸和打狗地方官員可以私下允許外國商船，停靠遠離政治核心的打狗進行貿易。

然而，實際上官員後來往往放任外國商船停靠安平，未能嚴格執行禁令。過了數年，新任的臺灣道孔昭慈於1859年，又要求外國商船「不准像之前一樣在安平附近起卸貨物」。有位英國商人分析：「這並非臺灣道刻意禁止外商在臺灣府貿易，而是因為府城當地泉州人組成的商人團體，跑去向福建巡撫告狀，指控外國商船收購物產，造成物價上漲，影響了本地商人的生意。」

臺灣道：臺灣建省前，在臺灣的最高文官。

- ( B )44. 根據上文中裕鐸與洋行的會談結果，當時臺灣對外貿易的情況，最可能是下列何者？
- (A)當時臺灣尚未對外開港，裕鐸嚴禁洋商在臺貿易  
 (B)當時臺灣尚未對外開港，實際上洋商已來臺貿易  
 (C)當時臺灣已經對外開港，洋商可在臺灣各港口貿易  
 (D)當時臺灣已經對外開港，裕鐸仍阻撓洋商在臺貿易

科目【歷史】第一冊第二篇第5章 清帝國時期農商業的發展  
 試題解析：清帝國於英法聯軍戰敗後，臺灣才開放港口，對外通商。由文中內容「官員往往放任外國商船停靠安

平，未能嚴格執行禁令」，故選(B)。

- ( B )45. 根據上文，外國商人分析臺灣道重申外國商船不得在安平附近起卸貨物的原因，最可能與下列何者有關？
- (A)安平與鹿耳門泥沙淤積，易造成擱淺  
 (B)府城商人透過「郊」來維護自身利益  
 (C)日本出兵臺灣南部，清帝國提高警戒  
 (D)許多府城商人組成「郊」與洋行合作

科目【歷史】第一冊第二篇第5章 清帝國時期農商業的發展  
 試題解析：由文中內容「因為府城當地泉州人組成的商人團體（泉郊），跑去向福建巡撫告狀」，故選(B)。

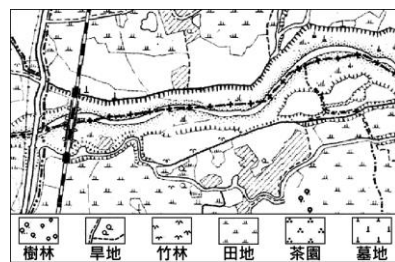
閱讀下列選文，回答第46至48題：

臺灣和地形有關的地名，多是古人依照當時的地理環境所命名，隨著時間變化，原先的山丘、河或湖可能會變遷甚至消失，僅剩下地名而已。因此，透過地名可推估過去的地景樣貌，例如「墘」字代表位於某一地物或水體的旁邊，如厝墘、田墘、港墘與溪墘等，圖(二十四)為「墘」字地名的分布圖。

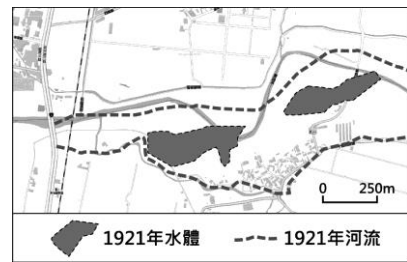
小瑜家鄉地名也有「墘」字，雖然現今已經看不到當時的地貌；為了印證上述命名原則，她找到1921年日治時期家鄉的地圖(圖二十五)，並將當時的河流及水體標示在現今的電子地圖(圖二十六)上，發現與上述原則是一致的。



圖(二十四)



圖(二十五)



圖(二十六)

- ( A )46. 根據圖(二十四)中「墘」字地名的分布判斷，下列關於「墘」字地名的推論何者最為合理？
- (A)分布於閩南族群集中區，屬閩南族系的地名  
 (B)分布於客家族群集中區，屬客家族系的地名  
 (C)分布於現今原住民居住地，為原住民的地名  
 (D)受西班牙占領影響，為西班牙語音譯的地名

科目【地理】第六冊第一篇第2章 臺灣聚落地名  
 試題解析：「墘」字從圖(二十四)判斷，大部分都分布在西南部，比較多是屬於閩南族群的集中區，所以是屬於閩南族群的地名。(B)客家族群是分布在臺灣西北部；(C)原住民族分布比較偏山區，即是地圖中間的部分；(D)西班牙語音譯的地名在臺灣分布較少，故選(A)。

- ( A )47. 根據圖(二十五)判斷，在日治時期小瑜的家鄉最可能以哪種產業活動為主？
- (A)水稻耕作 (B)樟腦提煉  
 (C)茶葉種植 (D)海鹽晒製

科目【地理】第六冊第一篇第2章 臺灣聚落地名  
 試題解析：題目描述「墘」這個地名通常位於某一地物和水體的旁邊。將圖(二十五)地圖中間與圖(二十六)的水體



位置，從兩張地圖做交集後的部分來判斷，跟水體有關的圖例最好的答案即是田地，故選(A)。

( B )48. 根據上文中地名的命名原則及圖(二十五)與圖(二十六)的資訊判斷，小瑜的家鄉地名最可能為下列何者？

- (A)海墘 (B)潭墘  
(C)岸壁墘 (D)黑礁墘

科目【地理】第六冊第一篇第2章 臺灣聚落地名

試題解析：題目描述「墘」這個地名通常位於某一地物和水體的旁邊，地名的命名原則通常會帶有「墘」字。由圖(二十六)判斷，此地有水體及河川，河道彎曲所形成的水體稱為潭，小瑜的家鄉在潭的旁邊，故此地名為「潭墘」。

閱讀下列選文，回答第 49 至 51 題：

過去以茶文化為主的亞洲人，對咖啡的接受度越來越高，更逐漸在各地形成獨特的咖啡文化。近年臺灣也吹起喝咖啡的風潮，路上常看到人手一杯咖啡。其實早在日治時期，日本就已將飲用咖啡的習慣帶入臺灣，戰後有業者創立供內用的專業咖啡店，還有廠商生產即溶與罐裝咖啡，但直到九〇年代末期，美式咖啡連鎖品牌進駐臺灣引進外帶現煮咖啡後，咖啡市場才出現了關鍵性的改變，讓喝咖啡變成日常生活的一部分。2018 年時，臺灣平均每人一年喝下超過 200 杯咖啡，咖啡豆的進口量是 2008 年時的兩倍以上，而且咖啡商機還在持續成長中。

而南韓人比臺灣人更愛喝咖啡，南韓在亞洲地區的咖啡飲用量名列前茅，根據相關調查報告推估，南韓平均每人一年喝下超過 500 杯咖啡。咖啡幾乎是南韓日常生活中不可缺少的一部分，不只是上班族的必備品，也相當受學生喜愛。在南韓的校園中，不少學生常因熬夜看書導致白天精神不濟，於是飲用咖啡來提神與增加專注力，但攝取過量咖啡因會有頭暈、心跳加速、睡眠障礙等症狀，可能不利於青少年神經及心血管系統的發育。南韓政府擔心校園內飲用咖啡的風氣，對於未來整體的國民健康、醫療資源會產生負面影響，因此修法規定自 2018 年 9 月起，全面禁止在高中以下校園內販售含有咖啡因的飲料。

或許臺灣人的咖啡癮還沒有南韓這麼嚴重，不過我國已有相關法令規範高中以下校園內飲品及點心的販售項目，違規販售不符規範的商品將被主管機關要求下架，以避免類似的問題在臺灣發生。

( C )49. 文中針對我國咖啡的相關敘述，下列何者最適當？

- (A)咖啡產品貿易總額超越茶產品  
(B)咖啡豆的進出口貿易呈現出超  
(C)飲用咖啡的習慣受到文化交流影響  
(D)國小內販售咖啡將會遭受刑罰處罰

科目【公民】第二冊第三篇第1章 社會中的多元文化

試題解析：(A)題目內文未提及茶產品的貿易總額；(B)題目內文未提及咖啡豆進出口貿易情形；(C)我國飲用咖啡的習慣由日本帶入，並由美式連鎖咖啡文化發揚，受文化之間交流的影響；(D)要求下架非刑罰的種類，故選(C)。

( D )50. 根據文中內容判斷，南韓政府的作法與下列何項敘

述最相符？

- (A)透過負向誘因影響校內師生的消費能力  
(B)透過正向誘因影響校內商品的販售種類  
(C)透過制度變革影響校內師生的消費能力  
(D)透過制度變革影響校內商品的販售種類

科目【公民】第五冊第三篇第2章 價格與資源分配

試題解析：南韓政府為防止飲用咖啡的風氣造成社會問題，因此透過修改法規制度的方式管制校內商品販售種類，故選(D)。

( C )51. 文中所提及南韓政府修改法律的目的，與下列我國的何項作法最類似？

- (A)受監護宣告者自行訂定的契約不具效力  
(B)雇主不得因性別因素而對員工有差別待遇  
(C)國小學童不得出入有害身心發展的不良場所  
(D)家庭暴力受害者可聲請保護令以避免受到傷害

科目【公民】第四冊第三篇第6章 兒少權益的維護

試題解析：南韓政府為保護兒童及青少年身心健康發展，因此修法管制含咖啡因飲料的販賣。(A)其目的為保障不具行為能力者的權利；(B)其目的為保障工作場域的性別平等；(C)其目的為保護兒童及青少年身心發展的健康；(D)其目的在於保障家庭暴力受害者的安全，故選(C)。

閱讀下列選文，回答第 52 至 54 題：

空氣汙染是當代世界嚴重的問題，過去的英國也曾深受空汙的危害。日本 明治時代文學家夏目漱石在旅英期間的日記中寫道：

「在倫敦的街上散步時吐了口痰，當我看到自己吐出一團全黑的物體時真是吃驚。幾百萬市民每天都吸著煤煙和塵埃，汙染著他們的肺。」當時人們以煤作為驅動蒸汽機以及家中暖爐、廚具的燃料，加上西歐地區盛行風的吹拂，使空氣汙染物不斷飄向城市的下風處，形成如圖(二十七)煙霧瀰漫的景觀。



十九世紀英國城市景觀

圖(二十七)

燃煤帶來的空氣汙染會影響健康，可能降低新生兒存活率，或是使得兒童發育遲緩。十九世紀時英國部分城市的居民居住區域分布也反映出貧富差距，資本家與中產階級為了尋求較好的生活品質，紛紛遷往城市中汙染較少的區域，而較為窮困的低技術勞動階級，因受工作地點和經濟考量所限，只能居住於汙染嚴重的區域。因此，思想家恩格斯在當時就發出「只有勞動階級才會呼吸受汙染的空氣」的不平之鳴。

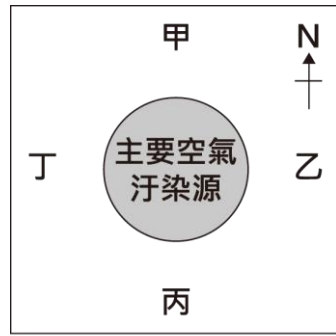
( A )52. 文中日本文學家描述的城市現象，與下列何者的關係最密切？

- (A)工業革命 (B)宗教改革  
(C)啟蒙運動 (D)文藝復興

科目【歷史】第六冊第二篇第1章 革命的年代

試題解析：由文中「空氣汙染」、「在倫敦」與「當時人們以煤作為驅動蒸汽機以及家中暖爐、廚具的燃料」可推知是 18 世紀起源於英國的工業革命，故選(A)。

- ( B )53. 圖(二十八)是文中國家某空氣污染嚴重的城市示意圖。已知圖中某處為低技術勞動階級居住的區域，根據上文及考量盛行風向的影響，此處最可能位於圖中甲、乙、丙、丁何處？



圖(二十八)

- (A)甲 (B)乙 (C)丙 (D)丁

科目【地理】第五冊第一篇第3章 歐洲與俄羅斯的自然環境  
 試題解析：題目敘述西歐英國的位置判斷，此地的盛行風為西風，西風為由西往東吹，而低技術的勞工多住在受汙染源頭的東側，剛好西風將汙染源由西往東吹到低技術勞工居住地，故答案選(B)。

- ( A )54. 文中關於城市居民居住區域分布所呈現的問題，是下列何者的關懷重點？

- (A)社會主義 (B)民族主義  
 (C)帝國主義 (D)法西斯主義

科目【歷史】第六冊第二篇第1章 革命的年代、第六冊第二篇第2章 民族主義與帝國主義

試題解析：工業革命帶來的影響之一，就是貧富差距擴大。為了解決工業革命所造成的各種社會問題，社會主義學說應運而生，故選(A)。